


大きい かず①


() ねん () くみ なまえ ()

1 かずを すうじで かきましょう。

(1)



(2)



2 に はいる かずを かきましょう。

(1) 十のくらいが 6, 一のくらいが 2の かずは

62

(2) 10が 7つと 1が 3つで

73

(3) 38は 10が

3

つと

1が

8

つ

(4) 10が 10こで

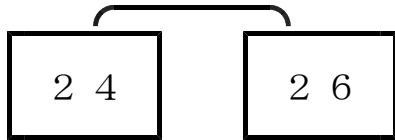
100

大きい かず②

() ねん () くみ なまえ ()

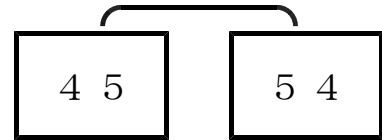
1 かずの 大きい ほうに ○を つけましょう。

(1)



() (○)

(2)



() (○)

2 に はいる かずを かきましょう。

(1) 3 3 3 4 3 5 3 6 3 7

(2) 6 0 7 0 8 0 9 0 1 0 0

(3) 1 0 8 1 0 9 1 1 0 1 1 1 1 1 2

(4) 3 2 より 6 大きい かずは 3 8

(5) 1 3 0 より 3 小さい かずは 1 2 7

3 つぎの けいさんを しましょう。

(1) $40 + 6 =$ 4 6




(2) $80 + 2 =$ 8 2

(3) $37 - 7 =$ 3 0

(4) $48 - 40 =$ 8

100までの かずの けいさん

() ねん () くみ なまえ ()

1  と  で なんまい ですか。  まい

2 つぎの けいさんを しましょう。

(1) $30 + 40 = 70$ (2) $50 + 10 = 60$

(3) $70 + 30 = 100$ (4) $60 - 20 = 40$

(5) $80 - 50 = 30$ (6) $100 - 20 = 80$

3 おはじきを 34こ もって います。
3こ あげると なんこ のこりますか。
(しき)

$$34 - 3 = 31$$

(こたえ)  こ

4 つぎの けいさんを しましょう。

(1) $12 + 7 = 19$ (2) $31 + 9 = 40$

(3) $57 + 2 = 59$ (4) $28 - 3 = 25$

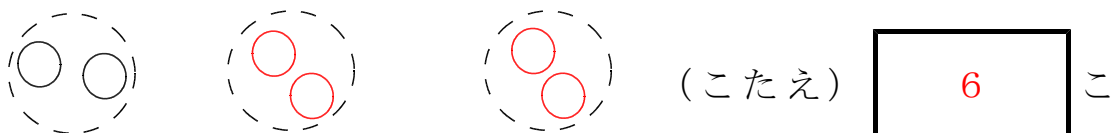
(5) $49 - 5 = 44$ (6) $88 - 6 = 82$

おなじ かずずつ

() ねん () くみ なまえ ()

- 1 子どもが 3人 います。
あめを 1人に 2こずつ あげます。
みんなで なんこ いらいますか。

(1) えに かいて かんがえましょう。

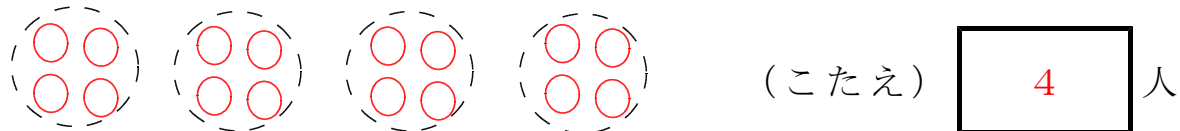


(2) しきに かいて たしかめましょう。

$$\boxed{2} + \boxed{2} + \boxed{2} = \boxed{6}$$

- 2 みかんが 16こ あります。
1人に 4こずつ あげると なん人に あげられますか。

(1) えに かいて かんがえましょう。



(2) しきに かいて たしかめましょう。

$$\boxed{} + \boxed{} + \boxed{} + \boxed{} = \boxed{}$$

- 3 18この おはじきを おなじ かずずつ わけます。

(1) 3人で わけると 1人 なん本に なりますか。

(こたえ) 本

(2) 6人で わけると 1人 なん本に なりますか。

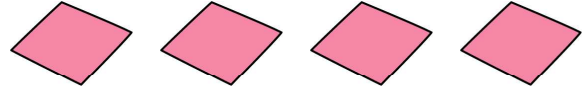
(こたえ) 本

おいしい ほう すくない ほう

() ねん () くみ なまえ ()

- 1 けんじさんは、おりがみを 4まい もって います。
おねえさんは、けんじさんより 3まい おおいそうです。
おねえさんは なんまい おりがみを もっていますか。

(しき)



$$4 + 3 = 7$$

(こたえ) まい

- 2 赤い チューリップが 9ほん さいて います。
白い チューリップのほうが 5ほん おおく さいて
います。
白い チューリップは なんほん さいて いますか。

(しき)



$$9 + 5 = 14$$

(こたえ) ほん

- 3 ひろしさんは えんぴつを 8ほん もって います。
ゆりこさんは、ひろしさんより 2ほん すくないそうです。
ゆりこさんは えんぴつを なんほん もって いますか。

(しき)




$$8 - 2 = 6$$

(こたえ) ほん

- 4 青い おはじきが 14こ あります。
赤い おはじきは それより 6こ すくないそうです。
赤い おはじきは なんこ ありますか。

(しき)





$$14 - 6 = 8$$

(こたえ) こ

大きさ くらべ(2)

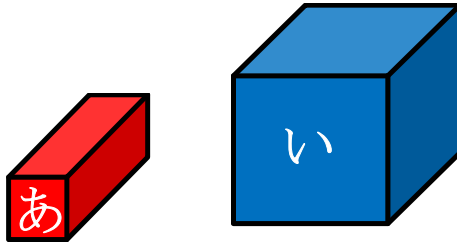
() ねん () くみ なまえ ()

1 どちらが ひろいですか。



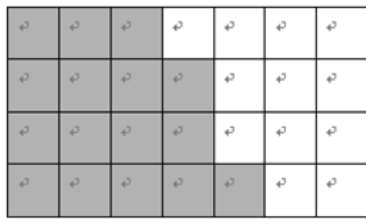
あ

2 どちらが 大きいですか。



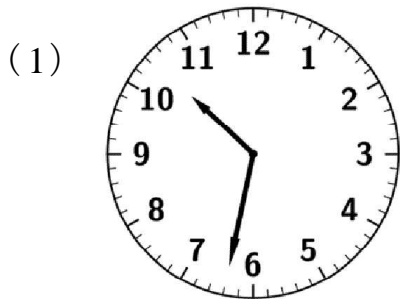
い

3 くろと しろ どちらが かったでしょう。

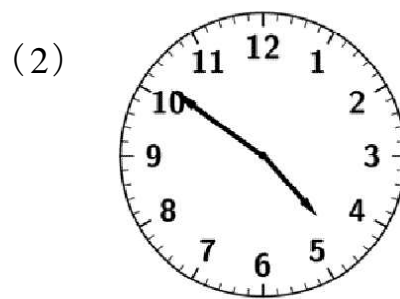


くろ

4 とけいを よみましょう。



10じ32ふん



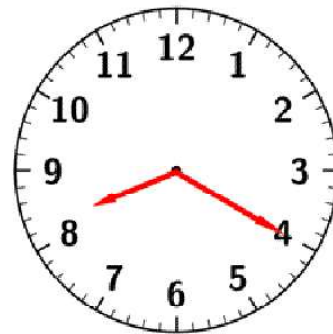
4じ51ふん

5 はりを かきましょう。

(1) 2じ35ふん



(2) 8じ20ふん



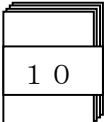
短針はそれぞれ
2~3の8~9の
間にあればよい

もうすぐ 2年生①

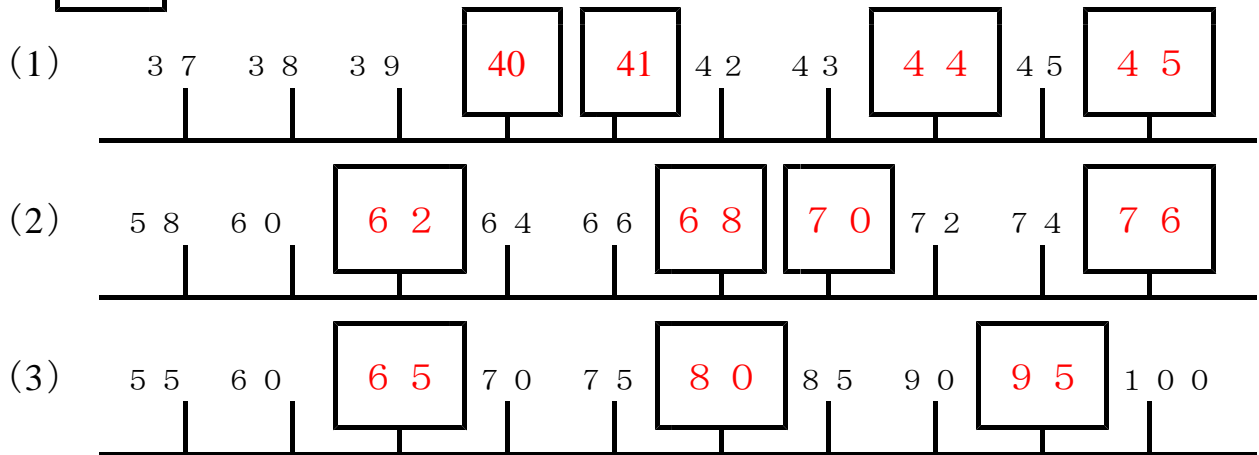
()ねん ()くみ なまえ ()

1 いくつ ですか。

(1)  が 4 つ と  が 2 つ (こたえ) 4 2 ほん

(2)  が 1 0 (こたえ) 1 0 0 まい

2 に はいる かずを かきましょう。



3 けいさんを しましょう。

(1) $4 + 2 = 6$ (2) $2 + 6 = 8$ (3) $3 + 0 = 3$

(4) $1 + 9 = 10$ (5) $4 + 9 = 13$ (6) $6 + 7 = 13$

4 けいさんを しましょう。

(1) $7 - 2 = 5$ (2) $8 - 7 = 1$ (3) $3 - 3 = 0$

(4) $10 - 6 = 4$ (5) $13 - 5 = 8$ (6) $14 - 7 = 7$

もうすぐ 2年生②

()ねん ()くみ なまえ ()

1 けいさんを しましょう。

(1) $4 + 2 + 5 = 11$ (2) $8 - 2 - 1 = 5$

(3) $10 - 5 + 3 = 8$ (4) $7 + 3 - 4 = 6$

2 けいさんを しましょう。


(1) $32 + 2 = 34$ (2) $20 + 60 = 80$

(3) $76 - 6 = 70$ (4) $60 - 40 = 20$

3 いちごがりで、たけしさんは 30こ ひろいました。
おねえさんは たけしさんより 8こ おおく ひろいました。
おねえさんは なんこ とりましたか。

(しき)

$$30 + 8 = 38$$




(こたえ) 38 こ

4 りんごが 23こ あります。
みかんは それより 5こ すくないそうです。
みかんは なんこ ありますか。

(しき)

$$23 - 5 = 18$$



(こたえ) 18 こ