







かずとすうじ

(きょうかしよ 6 ページから13ページ)

1 ●のかずを すうじで かいてみましょう。

				
↓ 1	↗ 2	↗ 3	↘ 4	↓ 5
1	2	3	4	5



2 おなじ かずの ものを せんで むすびましょう。



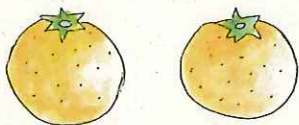

4




2










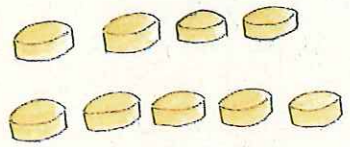





1



3



				
6	7	8	9	10
6	7	8	9	10

	•	•	9	•	•	
	•	•	6	•	•	
	•	•	8	•	•	
	•	•	10	•	•	

なんばんめ

(きょうかしよ 18ページから20ページ)



くじゃく

うさぎ

にわとり

わらびい
ウラビー

あなぐま

まがも

さる

☆ うえの えは，すわじんじゃの“どうぶつひろば”に
いる どうぶつたち です。

(1) みぎから 2ばんめの どうぶつは なんですか。

()


(2) ひだりから 5ばんめの どうぶつは なんですか。

()

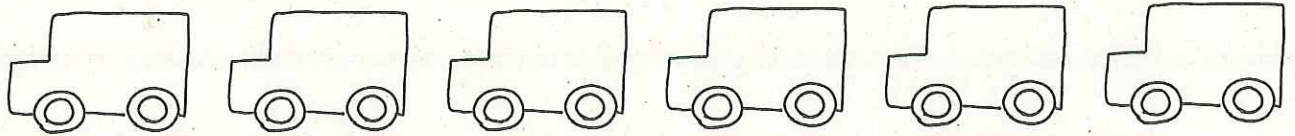
(3) ひだりから 2ばんめの どうぶつが もっている
ふうせんを あかで ぬりましょう。

(4) みぎから 5ばんめの どうぶつが もっている
ふうせんを あおで ぬりましょう。


いろをぬろう



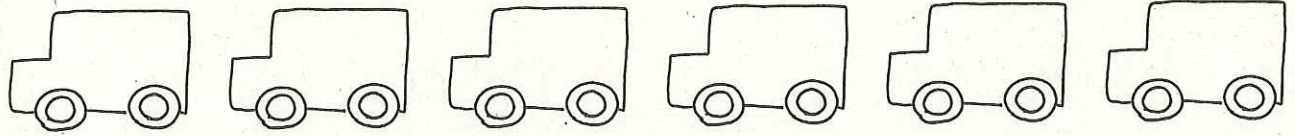
まえから 3だい



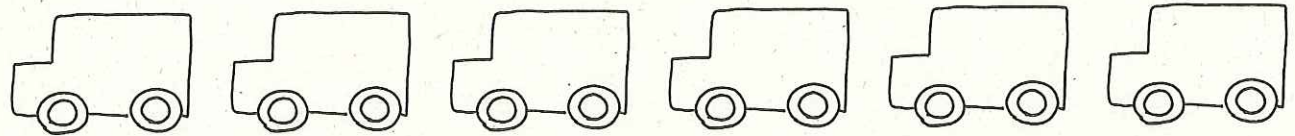
まえから 5だいい



うしろから 2だい




うしろから 4だいい




あわせて いくつ ふえると いくつ

(きょうかしょ 38ページから43ページ)

1 あわせて なんびきですか。



5びき




3びき


しき =

こたえ

2 あわせて なんぼんですか。



3ぼん




4ぼん

しき =

こたえ

3 3こ あります。
6こ ふえると なんこに なりますか。




3こ

しき =

こたえ

4 2だい とまって います。
 4だい ふえると なんだいに なりますか。



2だい

しき

$$\boxed{} = \boxed{}$$

こたえ

5 たしざんを しましょう。

(1) $2 + 1$

(2) $3 + 2$

(3) $1 + 4$

(4) $1 + 6$

(5) $3 + 5$

(6) $2 + 6$

(7) $3 + 4$

(8) $4 + 5$


(9) $1 + 9$

(10) $2 + 7$

のこりは いくつ ちがいは いくつ


(きょうかしよ 44ページから51ページ)

- 1 あめだまが 8こ あります。
5こ たべると なんこ のこりますか。



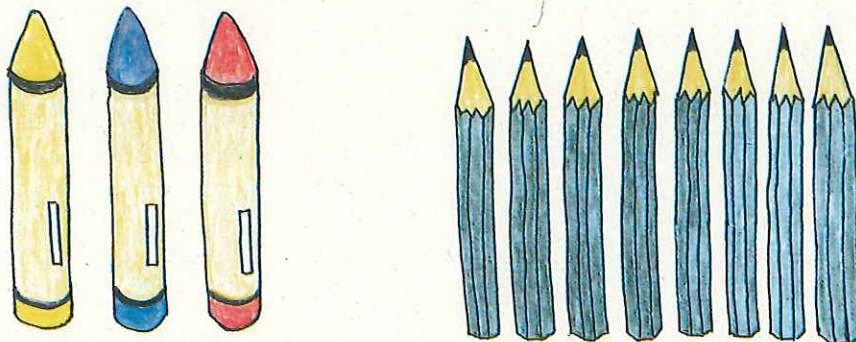
しき = ことえ

- 2 ^{みにとまと}ミニトマトが 7こ あります。
3こ とると なんこ のこりますか。





しき =
ことえ

- 3 えんぴつの ほうが なんぼん おおいですか。



しき = ことえ

4 かずのちがいはいくつですか。



しき =

こたえ

5 ひきざんをしましょう。

(1) $3 - 1$

(2) $4 - 2$

(3) $6 - 3$

(4) $9 - 5$

(5) $7 - 4$

(6) $10 - 5$

(7) $8 - 3$

(8) $5 - 1$

(9) $10 - 3$

(10) $7 - 6$

けいさん えんそく

したの ぼうしに こたえが かいて あります。
 ☆こたえのぼうしに もんだいとおなじいろをぬりましょう。

すたあと
スタート

$4 - 2$

むらさき

$6 + 3$

あか



ながさきえき

$10 - 6$

あお



$7 + 3$

きいろ

$2 + 6$

ちやいろ

$9 - 8$

みどり

$8 - 3$

きみどり

$3 + 4$

みずいろ



もうおこしだよ!

$7 - 4$

ももいろ

だいだいろ

$5 + 1$

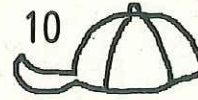
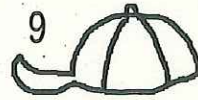
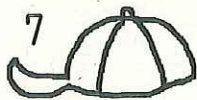
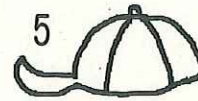
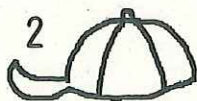
こおる
ゴール!



いようま



(こたえ)



けいさん

パズル

こたえにあわせて、いろをぬりましょう。

こたえが、6は **あお**，7は **きいろ**，8は **みどり**，

9は **ちゃいろ**，10は **あか**。

